



TOÁN LỚP 4A.

BÀI 29. HAI ĐƯỜNG THẲNG SONG SONG.

(2 TIẾT).

Thứ Hai ngày 9 tháng 12 năm 2024

Toán

**KHỞI
ĐỘNG**

A colorful illustration of a farm scene. In the center, a large wooden sign with the words 'KHỞI ĐỘNG' (Start) written in bold, stylized letters. The background features a bright rainbow arching over a green landscape with various trees, including a large green tree on the left and a smaller tree with red apples on the right. A wooden windmill stands on the right side. In the foreground, there are logs, a wooden fence, and some small plants like carrots and radishes. The sky is blue with white clouds.

Chiếc nón kỳ diệu



Play

Câu 4: Làm điều bằng giấy có mấy bước?



Start

- A. 5 bước
- B. 6 bước
- C. 7 bước






Hai đường thẳng màu
đỏ hình như không
bao giờ cắt nhau.

Hai đường thẳng đó
là hai đường thẳng
song song với nhau.



Toán

Bài 29: Hai đường thẳng song song (tiết 1)



- Kéo dài hai cạnh AB và DC của hình chữ nhật ABCD ta được hai đường thẳng song song với nhau.
- Hai đường thẳng song song với nhau không bao giờ cắt nhau.

HOẠT ĐỘNG

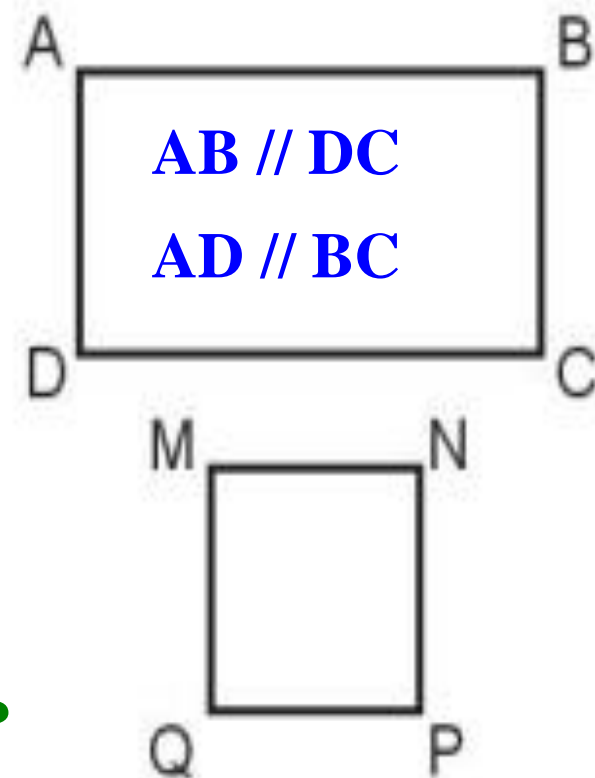


Toán

Bài 29: Hai đường thẳng song song (tiết 1)



- 1** a) Cho hình chữ nhật ABCD, AB và DC là một cặp cạnh song song với nhau. Hãy nêu tên các cặp cạnh song song với nhau có trong hình chữ nhật đó.
- b) Nêu tên các cặp cạnh song song với nhau có trong hình vuông MNPQ.



Toán

Bài 29: Hai đường thẳng song song (tiết 1)

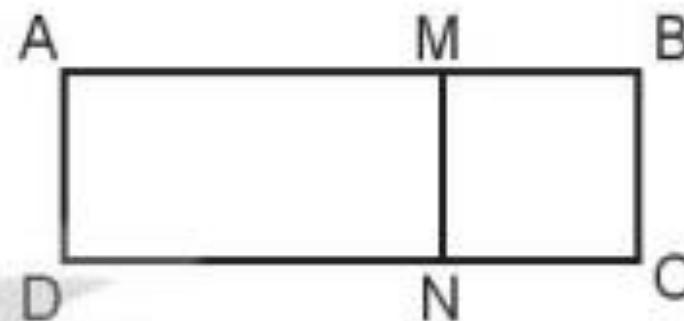
Bài 1

- a) Cạnh AB song song với cạnh DC
Cạnh AD song song với cạnh BC
- b) Cạnh MN song song với cạnh QP
Cạnh MQ song song với cạnh NP

Toán

Bài 29: Hai đường thẳng song song (tiết 1)

- 2 Trong hình bên, các hình tứ giác $AMND$, $MBCN$, $ABCD$ đều là hình chữ nhật. Hỏi cạnh MN song song với những cạnh nào?



Cạnh MN song song với cạnh BC và cạnh AD

Toán

Bài 29: Hai đường thẳng song song (tiết 1)

- 3 Tìm hình ảnh một cặp đường thẳng song song có trong bức tranh.



Đáy lớn, đáy nhỏ của cánh cửa của tên lửa
Vòng tròn xung quanh tên lửa
2 chiều dài, 2 chiều rộng của bức tranh

Toán

Bài 29: Hai đường thẳng song song (tiết 1)

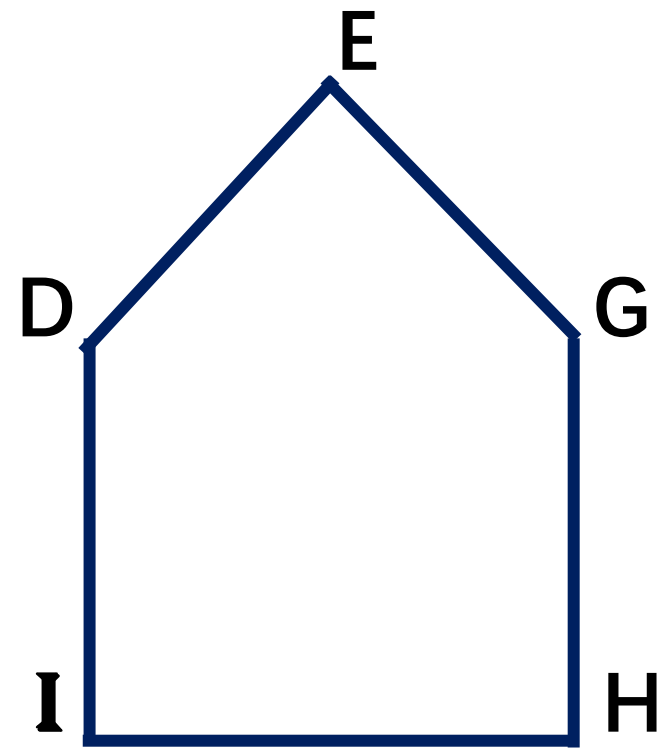
VẬN DỤNG





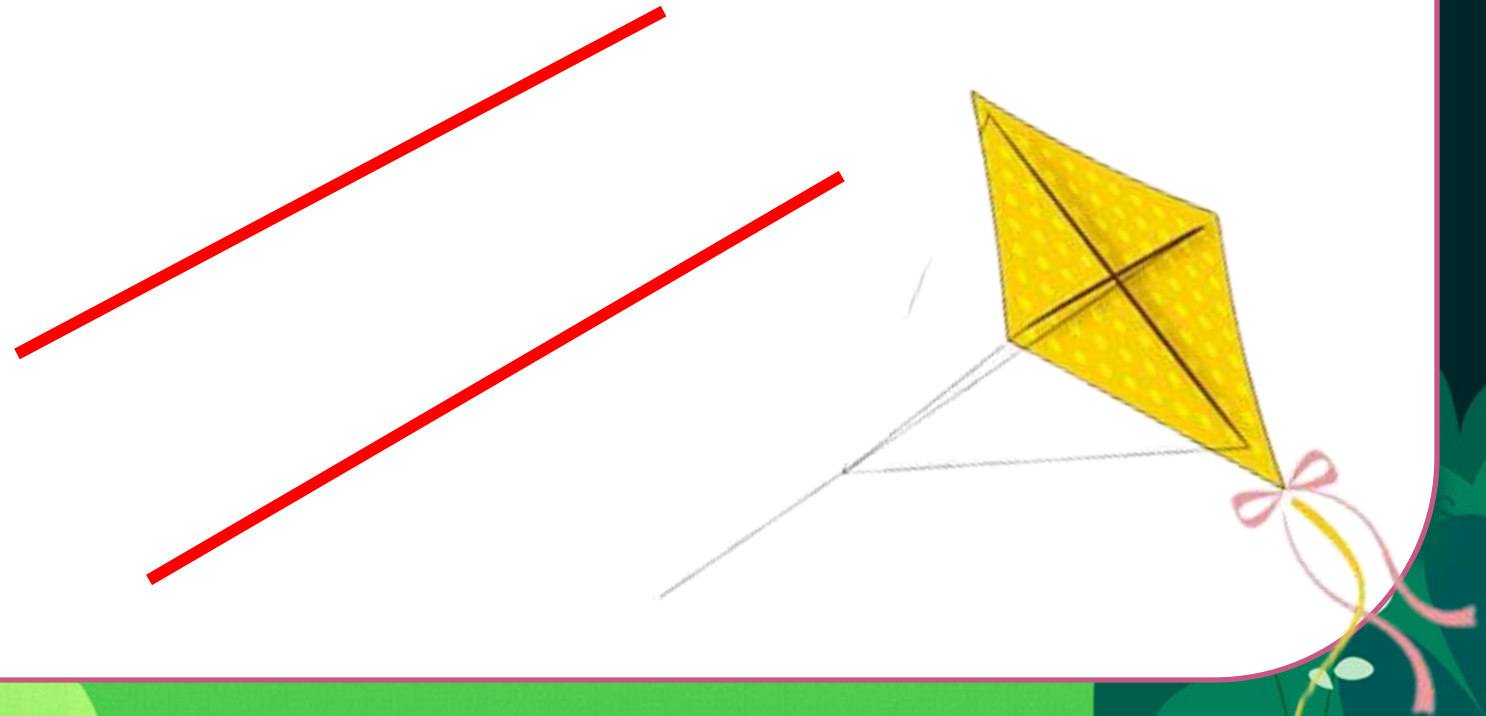
1. Cặp cạnh song song với nhau trong hình bên là:

ID và HG




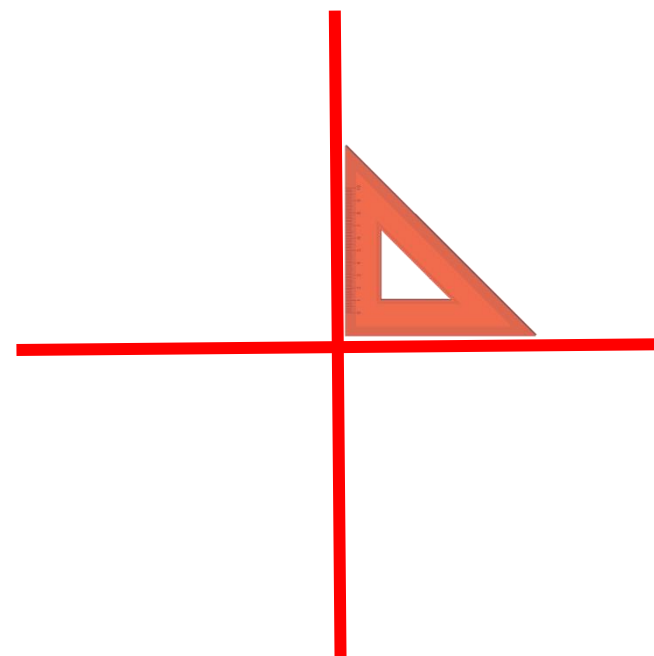
2. Hai đường thẳng song song có đặc điểm gì ?

Không bao giờ cắt nhau



3. Hai đường thẳng sau có đặc điểm gì?

Vuông góc





TOÁN LỚP 4A.

BÀI 27. HAI ĐƯỜNG THẲNG VUÔNG GÓC.

(TIẾT 2).

Thứ Ba ngày 10 tháng 12 năm 2024

Toán

**KHỞI
ĐỘNG**

Thứ Ba ngày 10 tháng 12 năm 2024

Toán

Bài 29: Hai đường thẳng song song (tiết 2)

1. Tìm một số hình ảnh về hai đường thẳng song song ở xung quanh em.



19



Thứ Ba ngày 10 tháng 12 năm 2024

Toán

Bài 29: Hai đường thẳng song song (tiết 2)

2. Đ, S?

Trong hình bên:

a. Hai đoạn thẳng CD và AE song song với nhau.

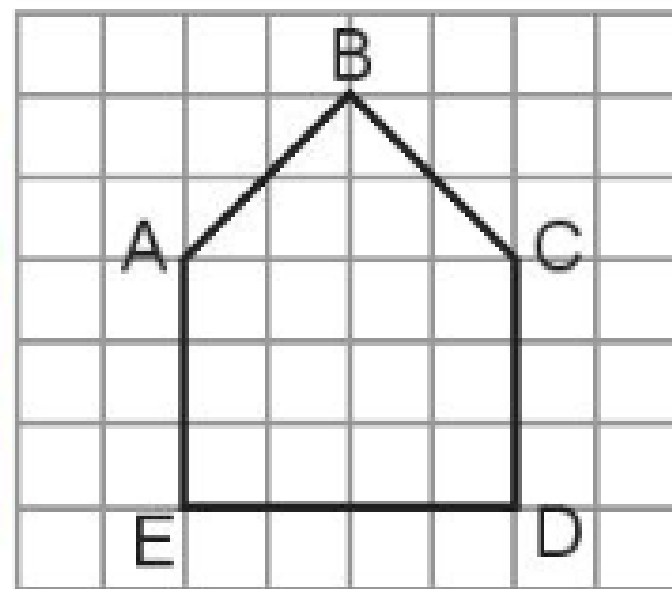
Đ

b. Hai đoạn thẳng AB và CD song song với nhau.

S

c. Hai đoạn thẳng AE và ED vuông góc với nhau.

Đ

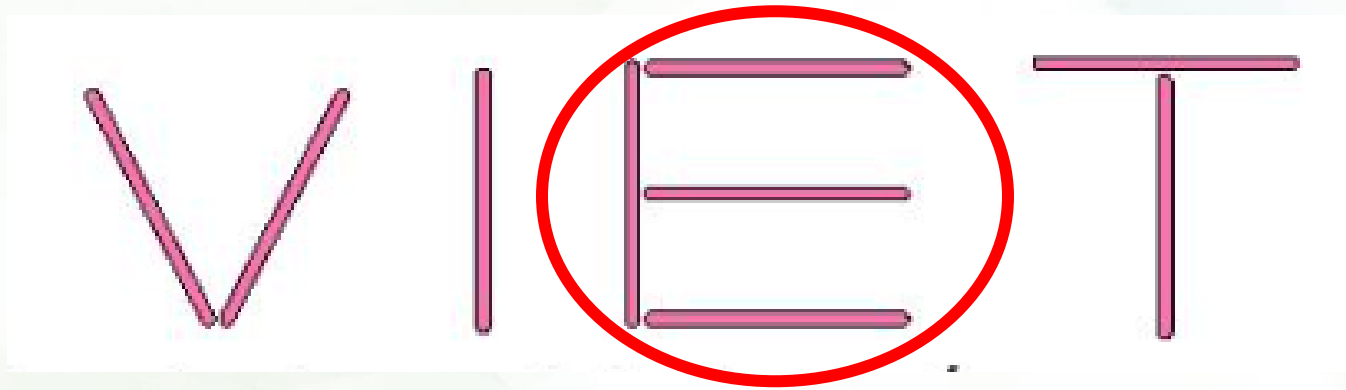


Thứ Ba ngày 10 tháng 12 năm 2024

Toán

Bài 29: Hai đường thẳng song song (tiết 2)

3. Viết dùng que tính xếp thành 4 chữ cái sau:



Hỏi chữ cái nào vừa có các que tính được xếp song song vừa có các que tính được xếp vuông góc?

Thứ Ba ngày 10 tháng 12 năm 2024

Toán

Bài 29: Hai đường thẳng song song (tiết 2)

4. Cho hình vẽ dưới đây. Biết Rô-bốt ở ngôi nhà màu vàng. Nhà của Mai và nhà của Rô-bốt ở hai đường song song với nhau. Hỏi trong các ngôi nhà A, B, C, D, đâu là nhà của Mai?

Nhà của mai là ngôi nhà B.

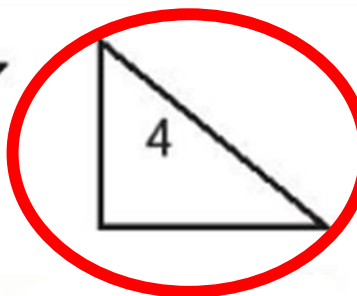
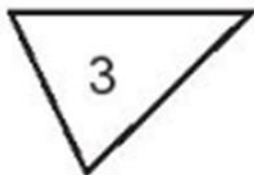
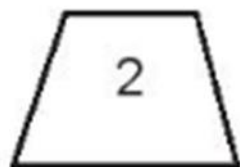



Thứ Ba ngày 10 tháng 12 năm 2024

Toán

Bài 29: Hai đường thẳng song song (tiết 2)

5. Cho các hình vẽ sau:



a. Những hình nào có cặp cạnh song song với nhau?

b. Những hình nào có cặp cạnh vuông góc với nhau?

Thứ Ba ngày 10 tháng 12 năm 2024

Toán

Bài 29: Hai đường thẳng song song (tiết 2)

VẬN DỤNG



CHÀO CÁC EM!

